


ראש בראש 40

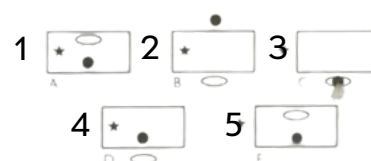
מבחר חידות ואתגרים עם תשובות



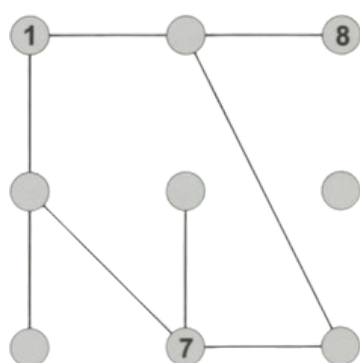
איזה שטר נפל ראשון?




התוכלו לחתוך את הצורה ל-2 חלקים שווים?



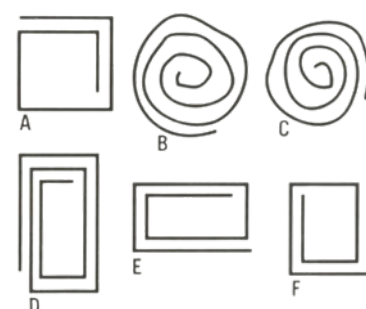
איזה מהצורות ממשיכות את הצורות שלמעלה?



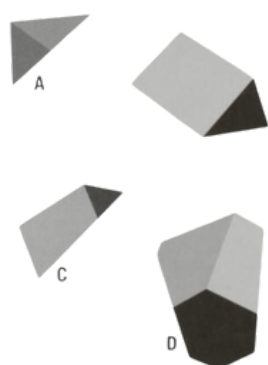
שבצו את המספרים מ-1 ועד 9 בין כל מספר שמחובר עם קו יהיה פער של לפחות 3 מספרים מהמספר הסמוך לו




איזה מהצורות במקום הסימן שאלה?



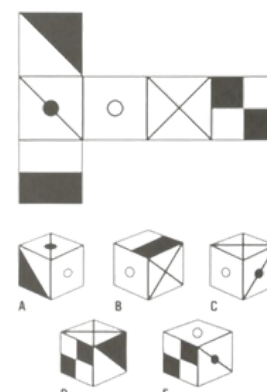
מי יוצא דופן?



שלושה מהחלקים יוצרים קוביה, התדעו איזה?



ציירו כאן את העיגול הכי גדול שתוכלו בדגש שלא יגע בשום עיגול אחר




אם תקפלו את הצורה לקוביה, איזה קוביה תקבלו?

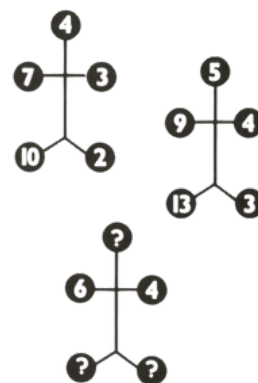
המשך




באיזה מה9 קוביות יש טעות?




איזה גלגל שיניים תוקע את שאר הגלגלים?




מה מגיע במקום שלשת סימני השאלה?



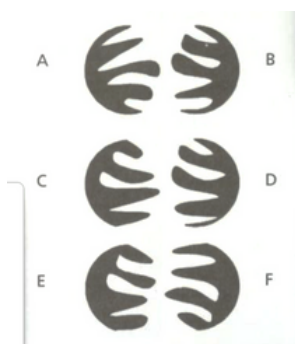
איזה חלק ישלים את סימן השאלה?



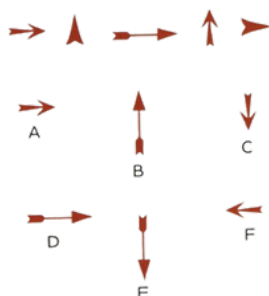
צאו מהחץ עשו את הדרך לכוכם
מותר לכם לפנות רק ימינה!



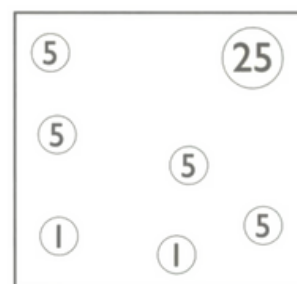
מצאו 3 קוביות צמודות
המכילות את המספרים 1 ועד 9



חברו את החלקים והפכו אותם ל 3 עיגולים?



איזה חץ ימשך את הסדרה?



ציירו 3 קווים, שיחלקו את הריבוע ל 6 חלקים,
כך בכל חלק סך שווי המטבעות יהיה שונה!

אהבתם? חיים כ"ץ שולח מידי שבוע אתגרים חדשים ללא עלות! תשלחו מייל ל a0533180118@gmail.com ותצורפו

כל הזכויות שמורות

ראש בראש 40

פתרונות

