



ראש בראש 21

שלום לכולם.

גם הפעם אנו מגישים פה מבחר חידות ראש בראש יחד עם התשובות


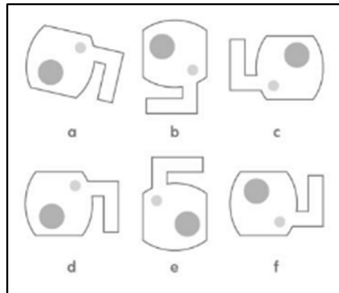
הם יבואו בקצרה בעמוד האחרון!

ניתן לקבל חוברות נוספות ומאתגרות בשליחת בקשה לאימייל

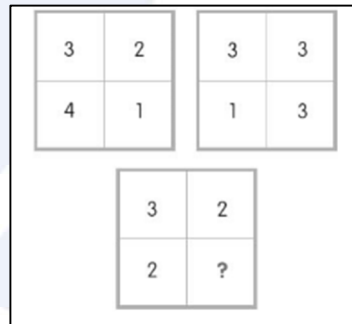
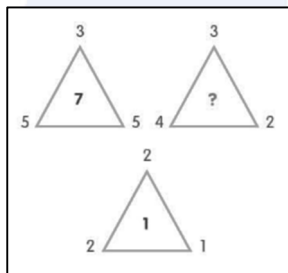
A0533180118@gmail.com

חיים כץ

אין לעשות שימוש מסחרי בחומרים – לגבי שימוש במוסדות חינוך – צרו קשר לאישור



1. איזה צורה יוצאת דופן?



2. איזה מספר צריך להיות במקום סימן השאלה?

✓ 13 16 19 22 25 28 31 ____

✓ 2 1 4 4 6 7 8 10 10 ____

✓ 2 2 4 8 32 ____


✓ 3 1 3 3 9 ____

✓ 5 4 8 11 18 ____

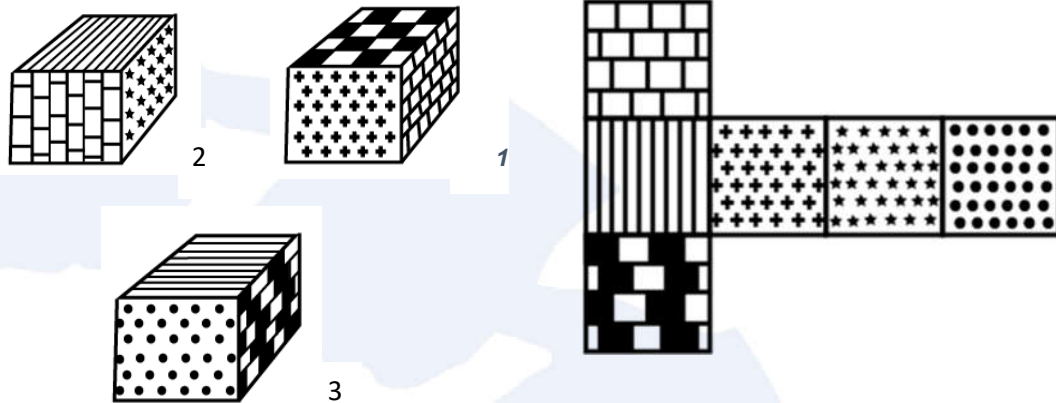
3. השלימו את המספרים החסרים:



4. איזה צורה מתוך הצורות בתחתית העמוד
ישלימו את הצורות החסרות?



5. אתם רואים את הצורה הזו? אם נקפל אותה
קוביה לאיזה משלשת הקוביות היא תהיה
דומה?



6. איזה מבין הריבועים משלימים את
ארבעת המשבצות בתשבץ?

3	9	1	2	8	3
9	?	?	2	1	9
1	?	?	3	9	1
2	1	9	3	8	2
8	3	9	1	2	8
3	8	2	1	9	3

8	3
8	2

A

3	8
2	8

B

8	2
8	3

C

2	8
3	8

D



סדנאות ODT



העצמה



רענון



חוויות



שיפור



גיבוש



מסעות



שטח



7. גלו את המספר החסר!

36	1216	48
24	824	72
42	?	51

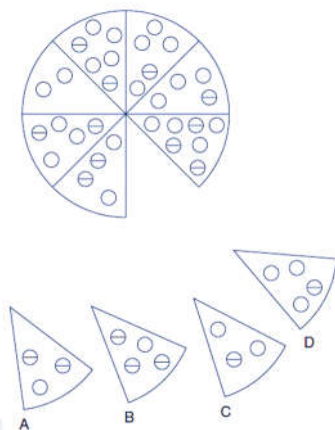


8. חסרים כאן 2 מספרים, מה הם?

0, 1, 2, 5, 20, 25, ?, ?



9. איזה פיצה תשלים את המגש?



10. החליפו את סימני השאלה בפלוס או במינוס, כך שבשני התרגילים תקבלו תוצאה שווה!

$$\begin{array}{ccccccc} & & & 16 & & & \\ & & ? & & ? & & \\ & 22 & & & 30 & & \\ ? & & & & & & ? \\ 2 & & & & & & 8 \end{array}$$

$$\begin{array}{ccccccc} & & & 3 & & & \\ & & ? & & ? & & \\ & 4 & & & 1 & & \\ ? & & & & & & ? \\ 14 & & & & & & 10 \end{array}$$



תשובות

1. בכוסות F בצורות המחודדות C.
2. בריבוע עם ה-8 מספרים התוצאה היא 14. בשלש הריבועים זה 10. במשולשים זה 3.
3. 28, 27, 256, 13, 34
4. A
5. 3
6. B
7. 1417
8. 150, 157
9. C (זה קשור לפיצה מולו)
10. $2=14-4+3-1-10$ והשני $2=2+22+16-30-8$



בהצלחה!

מקווה שנהניתם!