
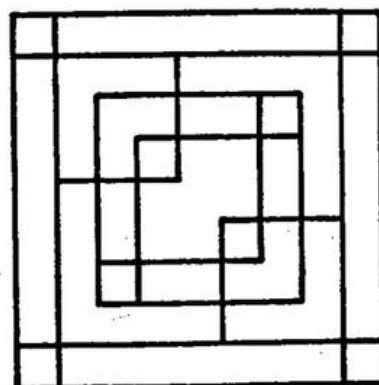


'כמה' 9

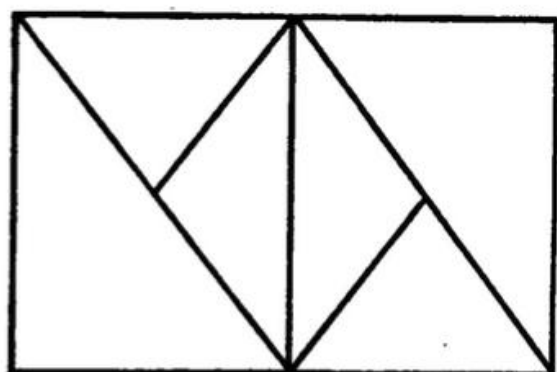
עליכם לגלות את מספר הצורות שיש בכל אחד מהציורים
זהו הקובץ התשיעי מאתגרי 'כמה'



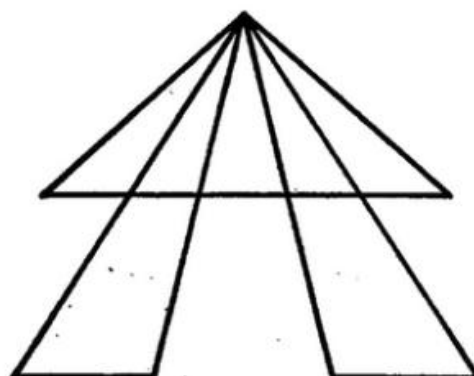
כמה ריבועים מצאתם?



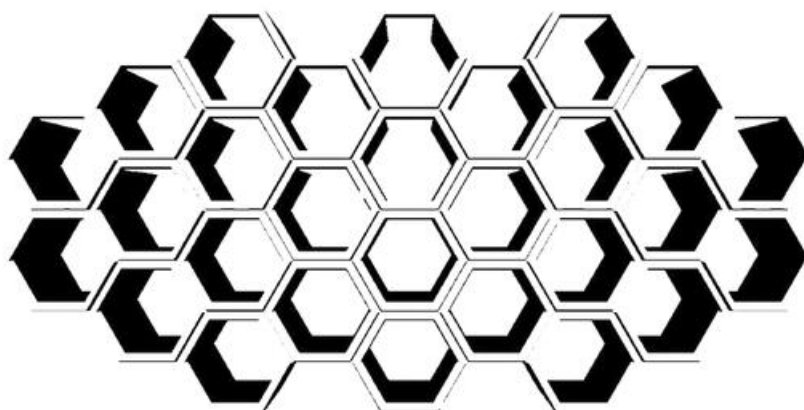
כמה ריבועים מצאתם?



כמה משולשים מצאתם?



כמה משולשים מצאתם?



כמה משושים מצאתם?